

# Een dag bij de Romeinen



Aan het eind van dit tijdvak:

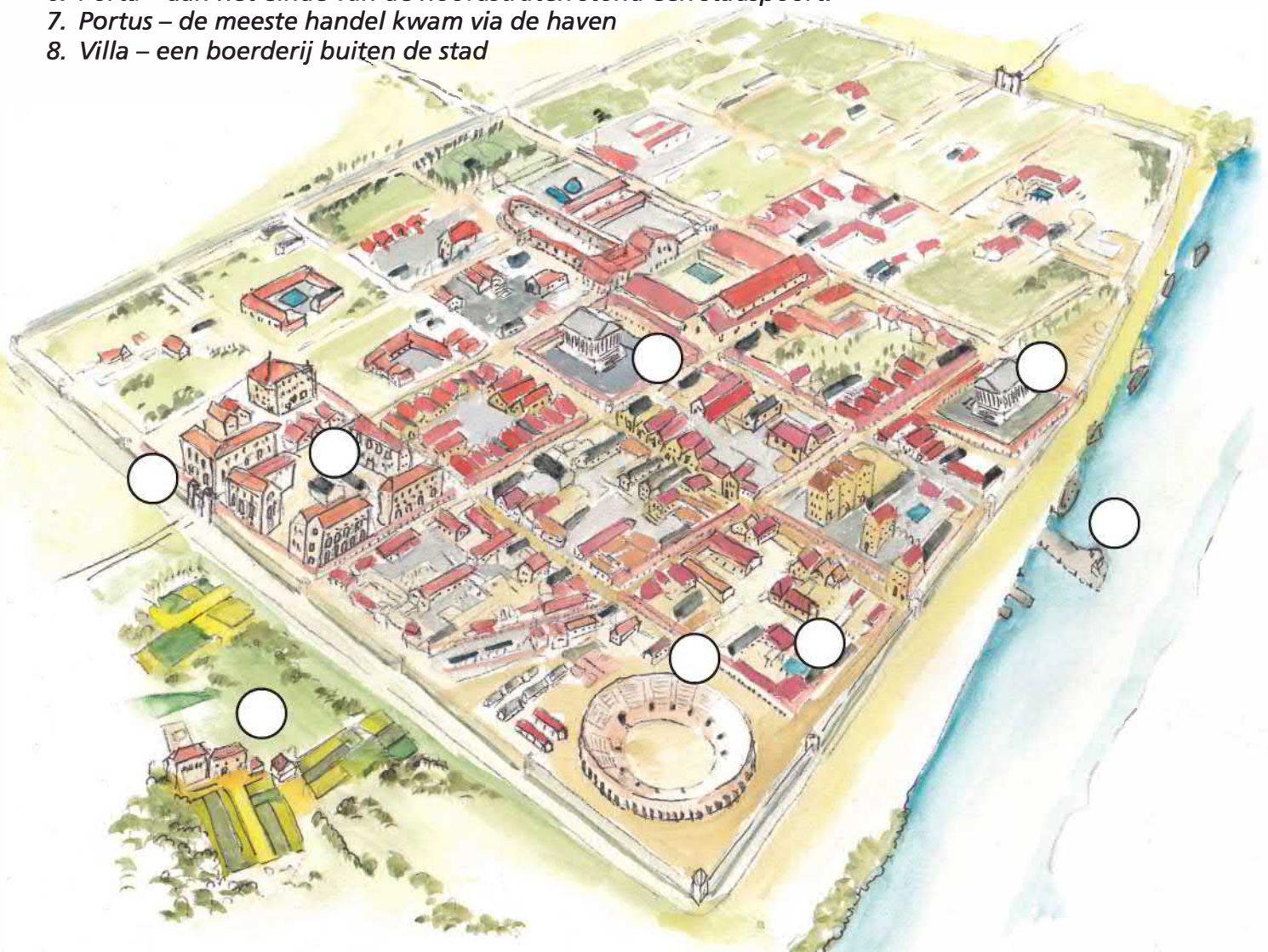
- Weet je hoe een Romeinse stad eruit zag.
- Weet je wat een Romein op een dag deed.
- Weet je hoe het leven van een Romeinse slaaf was.

## Een Romeinse stad

Het Romeinse rijk begon een paar honderd jaar voor Christus. Rond het jaar 0 waren de Romeinse soldaten ook in Nederland. De Romeinen bouwden de eerste steden. Een Romeinse stad was altijd vierkant.

- Vul in de Romeinse stad de juiste cijfers in.  
Kies uit:

1. Forum – in het midden van de stad was de markt.
2. Tempel – om de vele Romeinse goden te eren, vaak Jupiter
3. Amfitheater – hier vochten de gladiatoren en leeuwen in de arena
4. Thermen – hier namen de Romeinen een bad en kletsten ze bij.
5. Insulae – In deze flatgebouwen woonden de arme Romeinen. Instortingsgevaar!
6. Porta – aan het einde van de hoofdstraten stond een stadspoort.
7. Portus – de meeste handel kwam via de haven
8. Villa – een boerderij buiten de stad



-1000



-500

0

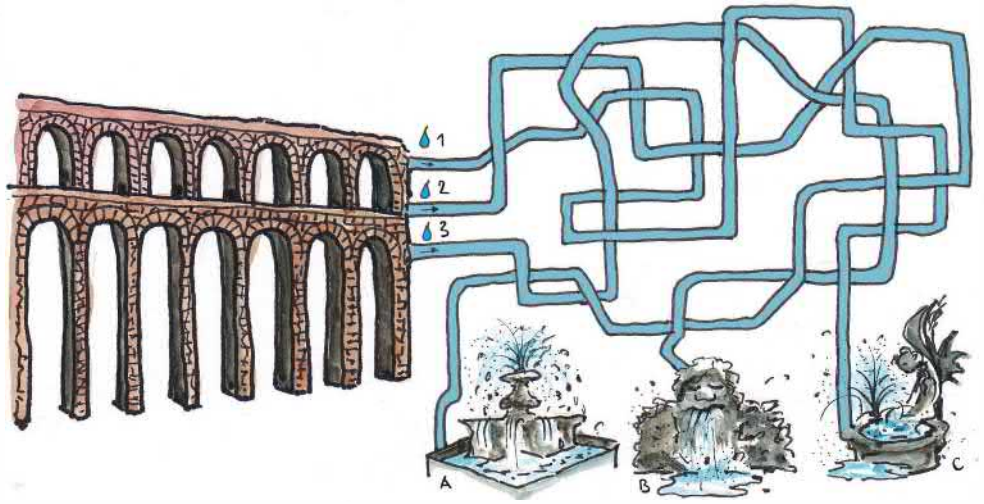


500



# 2 Aan het werk

In de stad stroomt het water via kanalen de stad in naar de fontein.

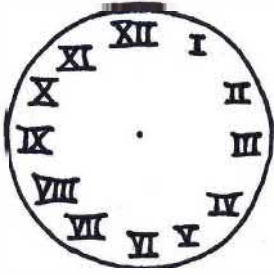


a. Bij welke fontein komen de waterdruppeltjes uit?

Druppel 1: fontein A / B / C

Druppel 2: fontein A / B / C

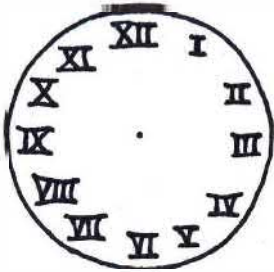
Druppel 3: fontein A / B / C




Twaalf uur.

In de korte pauze wandel ik even op het Forum.

b. Zie je waar ik heen wandel?  
 O tempel  
 O beeld van de keizer  
 O markt



Eén uur. Nu wordt het te warm om te werken. Ik ga naar mijn domus, mijn huis.



Ons huis heeft mooie mozaïeken.

c. Kijk goed en kleur de vakjes:  
 0 = rood  
 I = (licht)geel  
 II = bruin  
 III = zwart

d. Wat staat er op de vloer en wat betekent het?

---



---



---



---